


Zahlenspass mit Osterhasen

Spiele mit Mengen, Zahlen, Formen und Farben
Arbeitsblätter Mathematik



Für Kindergarten bis 2. Klasse

Altersdurchmischte Lerngruppen von 4 bis 8

Zahlen von 1 bis 100

Zahlenspass mit Osterhasen

Arbeitsblätter Mathematik

1. Auflage 2011 © Verlag LCH Lehrmittel 4bis8

Illustrationen: Regine Boser und Katharina Nuspliger-Brand

Idee und Gestaltung: Katharina Nuspliger-Brand

Die Arbeitsblätter sind als eBookPDF erhältlich. Bestellung nur online möglich: www.LCH.ch

Inhalt

Sachgebiet	Kompetenz	Level	Seite
Zahlen erkennen, zuordnen, zählen			
1 Hase ist anders	erkennen/zuordnen/zählen / Zahl 1	•	6
Osterdetektive	beobachten/erkennen/zählen / Zahl 2	••	7
Schoggihasantreffen	beobachten/zuordnen/zählen / Zahl 3	••	8
Eier sortieren	beobachten/zuordnen/zählen / Zahl 4	••	9
Velohase in voller Fahrt	beobachten/vergleichen/zählen / Zahl 5	••	10
Auftrag für den Osterhasen	zählen/Subtraktion / Zahl 6	•••	11
Gesucht: Osterkorb mit 7 Eiern	beobachten/vergleichen/zählen / Zahl 7	•••	13
Rundrennen für Osterhasen	beobachten/vergleichen/zählen / Zahl 8	•••	14
Ostersachen	zählen / Zahl 9	•••	15
Osternest gefunden	beobachten/vergleichen/zählen / Zahl 10	•••	16
Eier verzieren	Formen erkennen/gestalten	•	17
Eier färben	Zahlen erkennen/zuordnen	•••	18
Wer versteckt sich da?	Zahlenfolge erkennen	••	19

Mengen und Grössen erkennen, erfassen, vergleichen, prüfen

Streithähne	beobachten/vergleichen/zählen	•	20
Pech gehabt!	Mengen erkennen/zählen	•	21
Das bunte Eiersuchen	Mengen erkennen/zählen	••	22
Viel Arbeit für die Osterhasen	beobachten/Mengen erkennen/zählen	••	23
So viele Osterkörbchen	Mengen erfassen/zählen	••	24
Hasenverstecke	Mengen erfassen/Ergebnisse vergleichen	•••	25
Was gehört zusammen	Mengen erfassen/Ergebnisse vergleichen	••	26
Osterspaziergang	lesen/Mengen erkennen/zählen	•••	27
Die Hasenwerkstatt	beobachten/erkennen/zählen	•••	28
Sondereier	erkennen/zählen/Addition	•••	29
Im Hühnerhof	erkennen/zählen/Ergebnis zuordnen	•••	30
Rechenfehler beim Osterhasen	zählen/Ergebnis prüfen	•	31
Schoggihasen im Schaufenster	zählen/Ergebnis prüfen	••	32
Wieviele Hasen siehst du?	zählen/Ergebnis prüfen	••	33
Sind alle Hühner da?	zählen/Ergebnis prüfen/Menge zuordnen	•••	34
Was gehört zusammen	Grössen vergleichen/zuordnen	•	36
Suche den richtigen Korb	Grössen vergleichen/zuordnen	••	37
Wer ist der Grösste?	Grössen vergleichen/ordnen	••	38

Addition und Subtraktion

Aus dem Osterhasen-Rechenbuch	Addition/Subtraktion	••	39
Rechnen wie die Osterhasen	Subtraktion/Ergebnisse vergl.	••	41
Legehennen an der Arbeit	Addition/Subtraktion	•••	42
Der Hasenexpress	zählen/Subtraktion	••••	44
Eier verzieren für Rechenkünstler	Addition/Zahlen zuordnen	•••	45
Eierfarben rechnen	Addition/Subtraktion/Ergebnisse zuordnen	••••	46
Wer versteckt sich da?	Subtraktion/Ergebnisse zuordnen	•••	47
Oha lätz!	Addition/Subtraktion/Ergebnisse zuordnen	•••	48

Division und Multiplikation

Ostersachen verteilen	Division	•••	49
Körbchen füllen	Division	••••	51
Schmücke den Osterbaum	Multiplikation/Einerzahlen	••	53
Zahlenbild mit Dreierzahlen	Multiplikation Dreierzahlen/Ergebnisse zuordnen	••••	54
Suchbild für gute Rechnerinnen und Rechner	Multipl./Div./Add./Subtr./Ergebnisse zuordnen	••••	55
Eier färben für Rechenprofis	Multipl./Div./Add./Subtr./Ergebnisse zuordnen	••••	56
Zahlenbild für Leute mit Köpfchen	Multipl./Div./Add./Subtr./Ergebnisse zuordnen	••••	57
Da gibt's ein Donnerwetter	beobachten/vergleichen/zählen	••	58

Lösungen

59

Hinweise zum Gebrauch

Druckerlaubnis / drucken

Mit dem Kauf der Arbeitsblätter haben Sie die Druckerlaubnis erworben. Sie können die Blätter für Ihren Gebrauch beliebig ausdrucken. Die Druckvorlage ist urheberrechtlich geschützt. Sie darf nicht an Dritte zur weiteren Verwendung abgegeben werden.

Bei Druckern mit geringer Speicherkapazität: Falls nicht alle Buchstaben gedruckt werden, Arbeitsblätter in kleineren Teilen oder kapitelweise ausdrucken.

Probleme bei Drucken: Es kann vorkommen, dass beim Download Daten (Pixel) verloren gehen. Einzelne Arbeitsblätter können dann nicht korrekt ausgedruckt werden (fehlende Zeichen, Verschiebungen o.Ä.).

Fehlerbehebung: Arbeitsblätter über den Link noch einmal herunterladen und die defekte Seite ausdrucken.

Falls kein Erfolg, Meldung an: bestellung@LCH.ch

Symbole



Rund um Ostern



Osterhasen, Schoggihasen



Eier, Ostereier, Schoggi Eier



Hühner, Hennen, Kücken

Schwierigkeitsgrade

Die Angaben zu den Schwierigkeitsgraden sind als Orientierungshilfe gedacht. Sie reichen von Level 1 bis Level 4. Level 1 umfasst den Zahlenraum 1 bis 7, Level 2 und 3 umfasst jenen von 1 bis 20, Level 4 reicht bis 100.

Lösungen

Die Lösungen zu den Aufgaben sind im Anhang enthalten.

Legende:

R = Reihe (ohne andere Angaben von links nach rechts)

F = Figur


Z = Zeile




Pech gehabt!

Da hat der Osterhase aber Pech gehabt.
Zähle die ganzen Eier. Zähle die zerbrochenen Eier.
Schreibe die richtige Zahl in das richtige Kästchen.

15 eggs are shown in the main area. 10 are whole, and 5 are broken.

 =

 =

Hasenverstecke

Wie viele Hasen haben sich versteckt?

Nur eine Lösung ist richtig. Male das Kästchen mit der richtigen Zahl an.



12 4 9 6



4 1 5 3



6 4 10 5



2 5 7 3



11 7 6 9



3 1 5 2



4 9 2 3





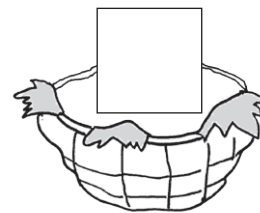

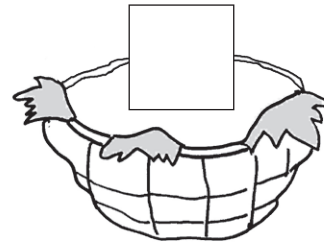

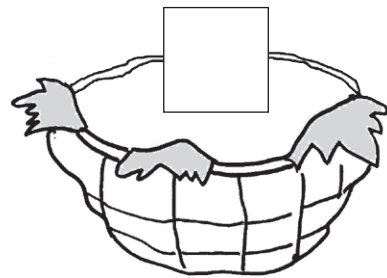
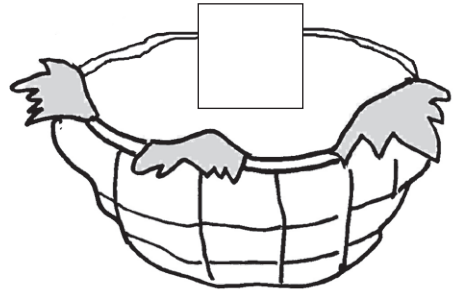
5 4 3 2

Suche den richtigen Korb

Welcher Korb passt zum Hasen?

Trage die Buchstaben in die Kästchen bei den Körbchen ein.

Lies die Buchstaben von oben nach unten. Wann kommt der Osterhase zu uns?



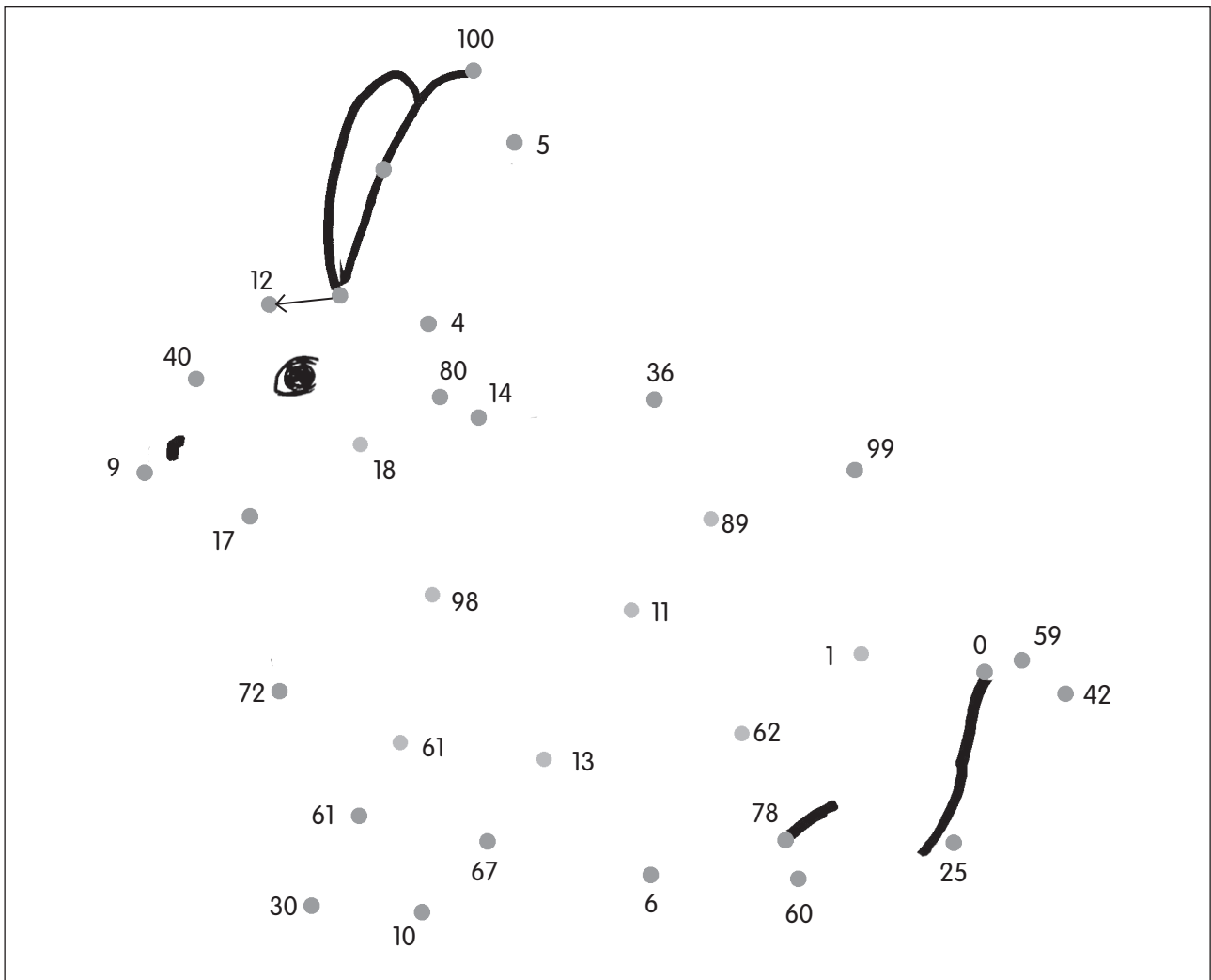
Lösungswort

--	--	--	--	--	--

Zahlenbild für Leute mit Köpfchen

Rechne die Aufgaben unten.

Verbinde die Zahlen der Ergebnisse der Reihe nach.



$3 \cdot 4 = \square$	$45 + 22 = \square$	$63 + 36 = \square$
$30 + 10 = \square$	$36 : 6 = \square$	$70 - 34 = \square$
$81 : 9 = \square$	$88 - 10 = \square$	$7 \cdot 2 = \square$
$50 - 33 = \square$	$99 - 39 = \square$	$53 + 27 = \square$
$9 \cdot 8 = \square$	$5 \cdot 5 = \square$	$32 : 8 = \square$
$26 + 35 = \square$	$6 \cdot 7 = \square$	$35 : 7 = \square$
$6 \cdot 5 = \square$	$28 + 31 = \square$	$50 + 50 = \square$
$30 : 3 = \square$	$0 \cdot 8 = \square$	\square

Da gibt's ein Donnerwetter!

Auch Hasenväter können richtig wütend werden.
Was haben die Kinder wohl angestellt? Was denkst du?
Im Bild unten hat es 10 Fehler.

